



E. E. Profª Virgínia Valéria Ap. de Almeida Freitas

Atividades

Aluno(a): **Turma:** **Professor(a):**

1 – Introdução:	As atividades a seguir, foram elaborada com o intuito de revisar os conteúdos das aulas apresentadas no Centro de Mídias.
2 – Objetivo:	Língua Portuguesa: Leitura, interpretação, preencher lacunas, rimas e ordem alfabética. Natureza e sociedade: sucessão de dias, semanas, meses e anos. Matemática: Reconhecer e relacionar figuras planas.
3 – Habilidades:	EF01LP18; EF01CIO5; EF01MA14.
4 – Roteiro:	Realizar as atividades pelo centro de mídias; solicitar sempre que necessário o apoio do professor através do grupo de whatsApp; as atividades poderão ser feitas impresso, no caderno ou em folha de sulfite.
5 – Referência Bibliográfica:	BNCC – Base Nacional Comum Curricular http://basenacionalcomum.mec.gov.br/images/BNCC_EI_EF_110518_versaofinal_site.pdf Currículo Paulista http://www.escoladeformacao.sp.gov.br/portais/Portais/84/docs/pdf/curriculo_paulista_26_07_2019.pdf Imagens _ https://br.pinterest.com/pin/463730092864915029/ https://pt.scribd.com/document/412863718/1-a-No-Alexandra https://br.pinterest.com/pin/15481192453186755/ https://www.google.com/search?q=atividades%20com%20formas%20geometricas%20para%20imprimir&tbm=isch&hl=pt-BR&sa=X&ved=0CJkBEKzcAigBahcKEwj4v7rm3M3rAhUAAAAAHQAAAAAQAg&biw=1349&bih=657#imgsrc=VpLoT8fMQ5w7jM

Período: 31/08 a 04/09/2020

Sugestão para Leitura:

Visite nosso site em Livros Infantis para Leitura, <https://evirginiavaleria.wixsite.com/evirginiavaleria/livros-infantis>

Escolha um livro, faça a leitura em família, anote em seu caderno suas observações:



E. E. Profª Virgínia Valéria Ap. de Almeida Freitas


Atividades


Aluno(a): Turma: Professor(a):


Complete o texto com as palavras que estão no quadro abaixo.

BARATA - CABRITA - MACACA - ELEFANTE - JUMENTO - ABELHA

ESSA  É DE CACO
QUEM MORA NELA É O _____

ESSA  TÃO BONITA
QUEM MORA NELA É A _____

ESSA  É DE CIMENTO
QUEM MORA NELA É O _____

ESSA  É DE TELHA
QUEM MORA NELA É A _____

ESSA  É DE LATA
QUEM MORA NELA É A _____

ESSA  É ELEGANTE
QUEM MORA NELA É O _____

E DESCOBRI DE REPENTE
QUE NÃO FALEI EM CASA DE GENTE.

Copie, em ordem alfabética, o nome dos animais que aparecem no poema. Depois represente-os com desenhos.

sosequencia.blogspot.com

LEIA O TEXTO ABAIXO COM ATENÇÃO.

A CASA E SEU DONO ELIAS JOSÉ.

ESSA CASA É DE CACO
QUEM MORA NELA É O MACACO.

ESSA CASA TÃO BONITA
QUEM MORA NELA É A CABRITA.

ESSA CASA DE CIMENTO
QUEM MORA NELA É O JUMENTO.

ESSA CASA É DE TELHA
QUEM MORA NELA É A ABELHA.

ESSA CASA É DE LATA
QUEM MORA NELA É A BARATA.

ESSA CASA É ELEGANTE
QUEM MORA NELA É O ELEFANTE.

E DESCOBRI DE REPENTE
QUE NÃO FALEI EM CASA DE GENTE.

- 1) NUMERE OS VERSOS, CONTE E COLOQUE O NÚMERO DE VERSOS QUE TEM O POEMA _____
- 2) CIRCULE DE LÁPIS DE COR AS ESTROFES E CONTE _____
- 3) TÍTULO: _____
- 4) AUTOR: _____
- 5) PRIMEIRA PALAVRA DO TEXTO: _____
- 6) ÚLTIMA PALAVRA DO TEXTO _____



E. E. Profª Virgínia Valéria Ap. de Almeida Freitas

Atividades

Aluno(a): Turma: Professor(a):

→ **DESENHAR** COMO ESTÁ O TEMPO HOJE,
DE ACORDO COM AS LEGENDAS.



ENSOLARADO



NUBLADO



CHUVOSO

→ **DESENHAR** COMO VOCÊ SE VESTE,
CONFORME A LEGENDA.



ENSOLARADO



NUBLADO

13 Preenche o quadro com os dias da semana.

Ontem	Hoje	Amanhã
	Terça-feira	
		Sábado
Quarta-feira		
	Domingo	

Relaciona cada mês ao número de dias que tem.

Janeiro	0		0	Janeiro
Fevereiro	0		0	Fevereiro
Março	0	30 dias	0	Março
Abril	0	28 ou 29 dias	0	Abril
Maio	0	31 dias	0	Maio
Junho	0		0	Junho

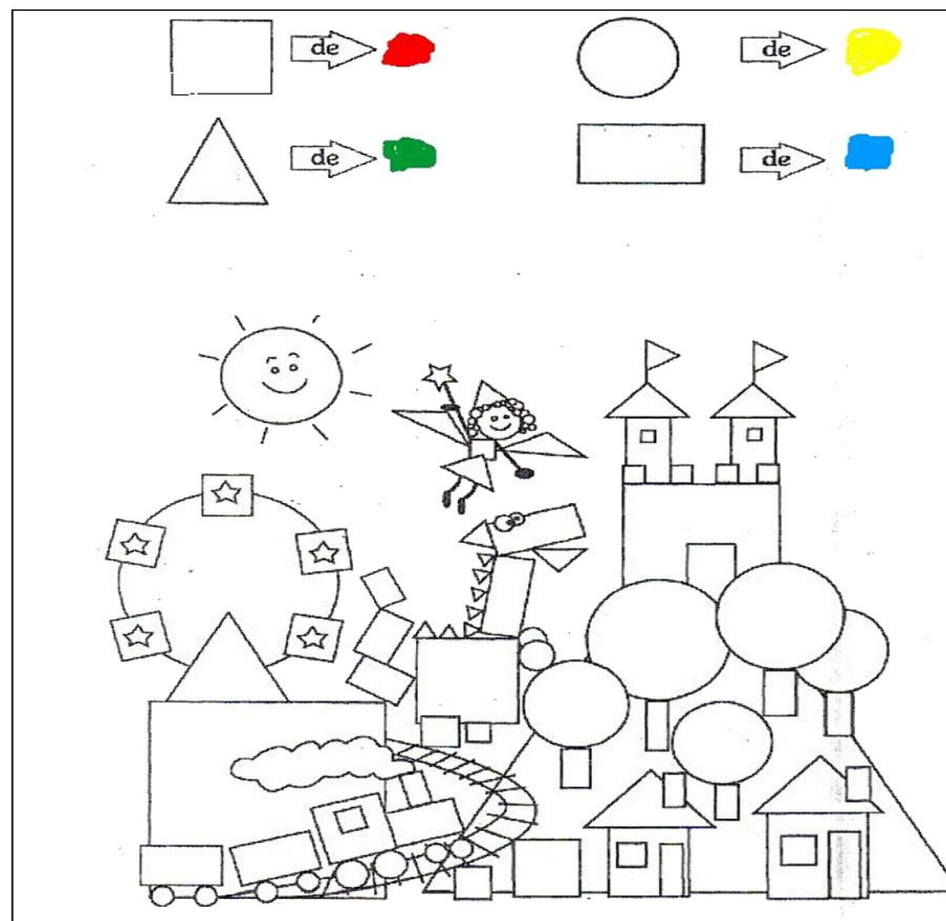


E. E. Profª Virgínia Valéria Ap. de Almeida Freitas

Atividades

Aluno(a): Turma: Professor(a):

Escola: _____
Data: _____ Turma: _____
Aluno: _____







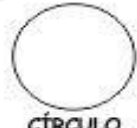
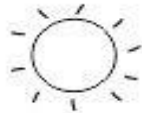










Escola: _____ Diretora: _____
Disciplina: _____ Professora: _____ Turma: _____
Aluno: _____ Data: _____



Formas Geométricas



Pinte as formas que são semelhantes às do primeiro quadro.

 QUADRADO			
 CÍRCULO			
 TRIÂNGULO			
 RETÂNGULO			



www.aulapronta.com.br